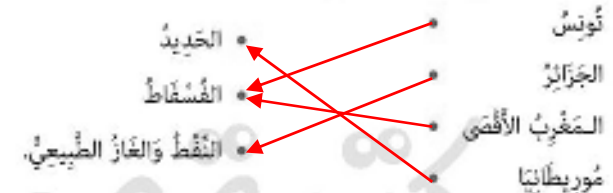


الاسم واللقب:

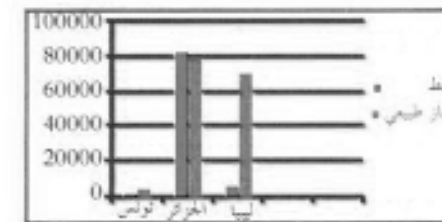
السند 1:

أثناء مشاهدته لبرنامج تلفزيوني يتحدث عن بلدان المغرب العربي دون أخذ جملة من المعلومات والشواهد والاستفسارات حول خصائص المجال الصناعي وشبكة المواصلات والمبادلات التجارية بالمغرب العربي.

1. أربط بينهم بين كل قطر والمواد التي ينتجها:



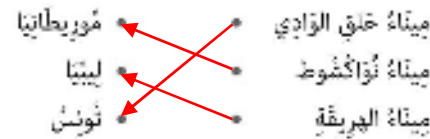
2. أتمم الرسم البياني وأكمل تمييز الجدول بكميات إنتاج النفط والغاز الطبيعي ببلدان المغرب العربي:



التنديد

	إنتاج النفط بألف طن	إنتاج الغاز بألف طن
تونس	أقل من 3100	أقل من 230
ليبيا	أقل من 70.000	أكثر من 8400
الجزائر	أكثر من 79.000	أكثر من 82400

3. أربط بينهم بين كل ميناء بحري والبلد الذي ينتمي إليه:



4. أذكر أسماء المناجم والحقول الهامة التي توجد بها المواد التالية:

- الحديد: .. الزويرات بموريطانيا.

- الفوسفات: .. الرديف، خربقة بالمغرب.

- النفط والغاز الطبيعي: .. حاسي مسعود، السرير بليبيا.

5. أكمل الاستنتاج بما يناسب:

تتميز شبكة النقل والمواصلات بالمغرب العربي بالتنوع ويختص كل من المغرب الأقصى والجزائر وتونس بامتلاك أكبر قسط من السكك الحديدية. وتؤدي الشبكة الحديدية دورا هاما في نقل البضائع و المسافرين.

6. أليخ لنا أخذت فيه عن حجم المبادلات التجارية بين مختلف أقطار المغرب العربي مينا البلدان التي تسجل موازينها عجزا أو فائضا مفسرا ذلك.

رغم محاولات الاندماج الاقتصادي وبناء سوق مغاربية مشاركة إلا أن

المبادلات التجارية بين أقطار المغرب العربي لا تزال ضعيفة جدا ولا تمثل

سوى 2% أو 3% من حجم التبادل التجاري.

جدول إحصاء الأعداد

العدد	عدد الأعداد		
	1	2	3
1	1	2	3
2	2	4	6
3	3	6	9